

Всероссийская олимпиада школьников по информатике.

Школьный этап. 2019 – 2020 учебный год.

9 класс. Время выполнения 40 минут

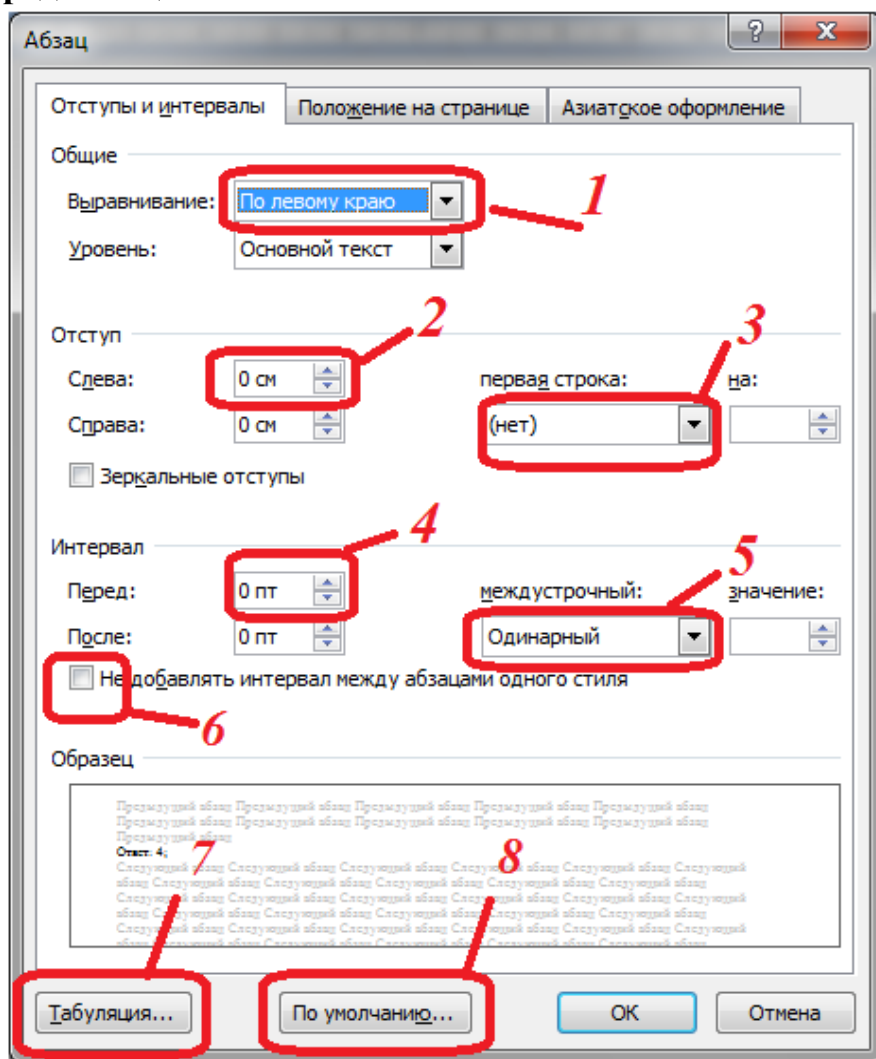
1. (3 балла) Установи соответствие между видами информации процессов и реализующими их предметами.

1) Звуковая	а) Чёрный квадрат
2) Зрительная	б) Аромат кофе
3) Тактильная	в) Холодный коктейль
4) Обоняние	г) Крик ребёнка
5) Вкусовая	д) Кислая ягода

В ответе укажи комбинацию из чисел и букв, без пробелов и каких-либо знаков препинания, числа должны идти по порядку. Например: 1a2б3в4г

Ответ: _____

2. (3 балла) Какой элемент диалогового окна используется для установки ширины промежутка перед абзацем?



В ответе укажи только число, без пробелов и каких-либо знаков препинания. Например: 100

Ответ: _____

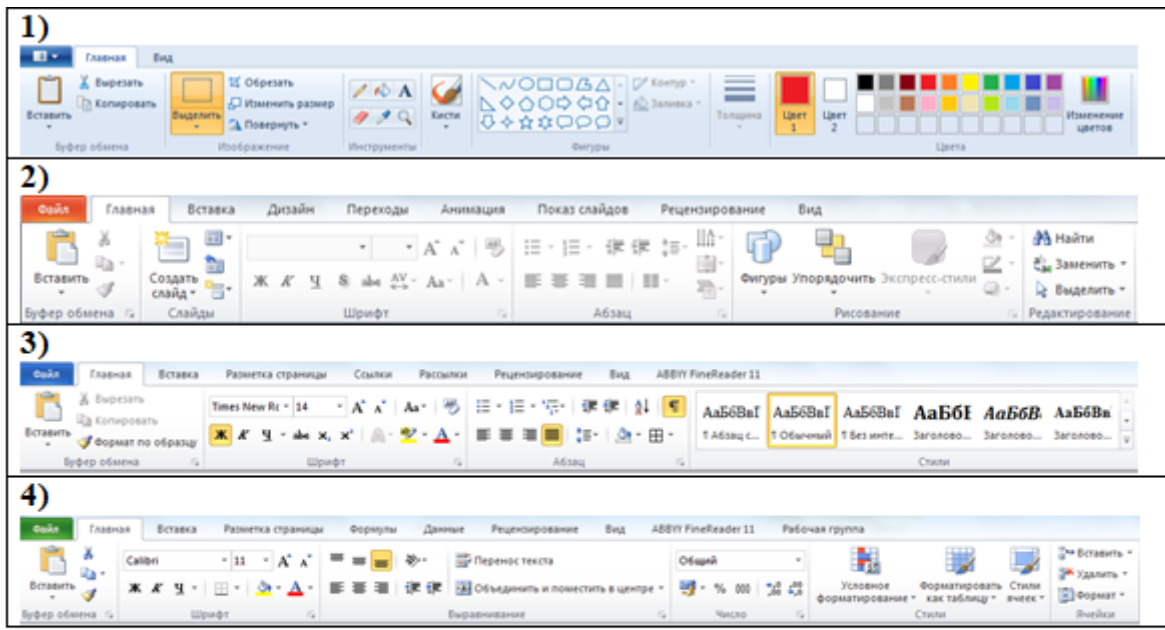
3. (3 балла) К устройствам хранения информации относятся:

1) модем	4) кассета	7) магнитный диск	10) джойстик
2) трекбол	5) мышь	8) световое перо	11) винчестер
3) дискета	6) флеш-карта	9) оптический диск	12) магнитофон

В ответе укажи номера правильных ответов в порядке возрастания, без пробелов и каких-либо знаков препинания. Например: 1234

Ответ: _____

4. (4 балла) Установи соответствие:



- а) Microsoft Office Word
- б) Microsoft Office Excel
- в) Microsoft Office Power Point
- г) Microsoft Paint

В ответе укажи комбинацию из чисел и букв, без пробелов и каких-либо знаков препинания, числа должны идти по порядку. Например: 1а2б3в4г

Ответ: _____

5. (4 балла) Выбери ответ, в котором указаны только операционные системы:

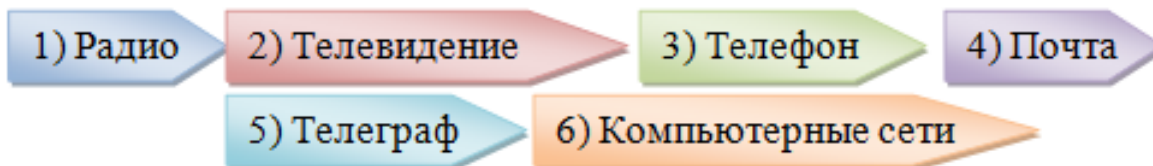
- а) IOS, Windows, Unix, Avast
- б) Windows, Word, Pixar
- в) WinRAR, Unix, IOS
- г) DOS, IOS, Windows, Unix

6. (4 балла) Определи, какой маске удовлетворяет следующее имя файла:

videouroki.net

а) ?our*.* б) *uroki*.*?* в) vid???roki.n? г) *ouro?.net

7. (4 балла) Установи обратную последовательность появления технических устройств приёма-передачи информации:



В ответе укажи правильную последовательность без пробелов и каких-либо знаков препинания. Например: 123456

Ответ: _____

8. (5 баллов) Установи соответствие между устройствами компьютера и выполняемыми действиями:

1) Процессор	а) Ввод информации в память компьютера
2) Клавиатура	б) Долговременное хранение данных
3) Оперативная память	в) Обработка данных в соответствии с заданной программой
4) Винчестер	г) Обработка текущей информации и загрузка программ

В ответе укажи комбинацию из чисел и букв, без пробелов и каких-либо знаков препинания, числа должны идти по порядку. Например: 1a2б3в4г

Ответ: _____

9. (5 баллов) Определи полное имя файла, если известно:

«Файл Крот.cmd находится во вложенной папке второго уровня Команды»



В ответе укажи правильную последовательность без пробелов и каких-либо знаков препинания. Например: 12345

Ответ: _____

10. (5 баллов) Определи произведение значений переменных s и i после выполнения фрагмента программы:

```
s: = 10;  
i: = 5;  
do  
    s: = s + i;  
    i --;  
while i > 0;
```

В ответе укажи только число, без пробелов и каких-либо знаков препинания.

Например: 100

Ответ: _____

Всего: 40 баллов.